

# 小学校の復習問題（算数）

（ ）年（ ）番 名前（ ）

1. 次の計算をしなさい。

$$\frac{3}{7} \times \frac{1}{9} = \square$$

$$4 \div \frac{4}{3} = \square$$

2. 次の百分率で表した割合を小数で表しなさい。

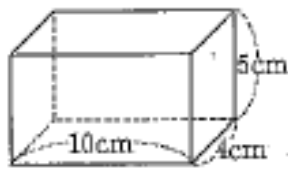
$$5\% = \square$$

$$40\% = \square$$

$$22.7\% = \square$$

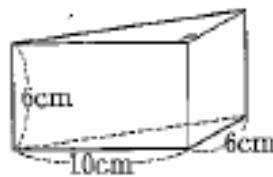
3. 次の立体の体積を求めなさい。

直方体



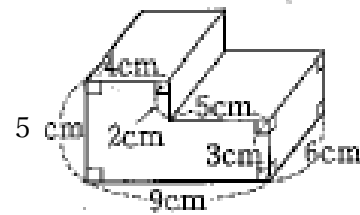
$$\square \text{ cm}^3$$

三角柱



$$\square \text{ cm}^3$$

切断された直方体



$$\square \text{ cm}^3$$

4. 小麦粉と砂糖の重さの比を8：3にしてクッキーを作ります。小麦粉を120gにすると、砂糖は何g必要か求めなさい。

$$\square \text{ g}$$

5. Aさんの体重は、昨年4月に42.5kgでしたが、今年4月には51.0kgになりました。1年間で増えた体重は、昨年の体重の何%ですか。

$$\square \%$$